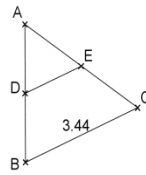
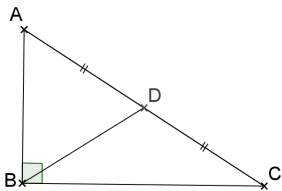


	Énoncé	Réponse	Jury
1	$7 \times 6 =$		
2	$13 + 6 + 7 =$		
3	Write in figures: two hundred and nine		
4	$46 - 9 =$		
5	Firy ny antsasaky ny 200 ?		
6	Complète	$18 + \dots = 30$	
7	Le quart de 8 est		
8	Quel est le chiffre des dizaines dans 348,32 ?		
9	136 est un nombre pair	<input type="checkbox"/> oui <input type="checkbox"/> non	
10	$99 - 55 =$		

	Énoncé	Réponse	Jury
11	25 lb pèsent 11,3kg. Combien pèsent 75 lb? kg	
12	Compléter	$\sqrt{100} = \dots$	
13	$1/2 + 3/2$ est un nombre entier ?	Entoure la bonne réponse : Vrai Faux	
14	40 % des élèves d'un lycée sont des filles. Il y a 200 filles au lycée. Combien y a-t-il d'élèves dans ce lycée ?		
15	$3,2 \times 5 + 4,8 \times 5 =$		
16	On a : D milieu de [AB], E milieu de [AC], calculer DE :		
17	On connaît les mesures suivantes d'un triangle ABC. $AB = 4,3$ cm ; $BC = 3,4$ cm Et $\hat{B} = \hat{C} = 30^\circ$ Quel est le périmètre de ce triangle ?	... cm	
18	3,25 heures	= min	
19	$199 \times 30 =$		
20	Quel est le tiers du quart de 24 ?		

	Énoncé	Réponse	Jury
21	$15 \times 15 =$		
22	$- 74 + 10 =$		
23	$2^3 =$		
24	$10^3 \times 10^{-2} \times 10 = 10^a$	a =.....	
25	 <p>AC = 12,6 cm, que vaut BD ?</p>		
26	Soit $A = 3x(2x + 1) - 2(3x - 1)$ Calculer A pour $x = 2$		
27	Donner l'écriture scientifique de $0,000\ 017 \times 100$		
28	$\dots + 12^2 = 157$ Quel est le nombre manquant ?		
29	$4,99 + 10,1 \times 0,1 =$		
30	Un vélo coûte 100€, on propose une première réduction de 20€ puis une seconde de 25% quel est le prix final du vélo?	... €	
QS	Le plus près de 125×702 l'emporte :	...	

Nom : Prénom :

Classe : 4^{ème}


Établissement :

Note :/30

L'épreuve comporte 30 questions. Les calculatrices sont interdites.

Durée : 7 minutes.

Écrire votre nom, prénom et classe sur cette feuille et attendre le signal de départ.



Sélection Equipe Zone

EPREUVE 4 - 18 mars 2015

A vos maths, prêts ? Calculez